


1. निम्न लिखित गद्यांश को पढ़कर प्रश्नों के उत्तर लिखिए -

सफलता केवल लक्ष्य निर्धारित कर कड़ी मेहनत करने से ही नहीं मिलती, बल्कि इसके लिए आवश्यक है कि असफलताओं के बावजूद "जोश" में कोई कमी न आए। खुद की काबिलियत पर भरोसा और मन में यह विश्वास हो कि भले ही कितनी ही कठिनाइयाँ क्यों न आएँ, लेकिन मंज़िल एक दिन हमारे कदम ज़रूर चूमेगी। ऐसी स्थिति में मंज़िल आपके बेहद करीब होगी। उम्मीद इन्सान को नकारात्मक विचारों से बचाती है। संभव है किसी काम या मेहनत का परिणाम आपकी उम्मीद के मुताबिक न निकले, लेकिन यदि आप आशावादी हैं तो नकारात्मक विचारों से बचते हुए आप अपने कार्य में जुट जाएँगे -

- क. सफलता के लिए क्या आवश्यक है ?
- ख. मनुष्य के जीवन में उम्मीद के लाभ बताइए।
- ग. यदि मनुष्य अपने जीवन में आशावादी हो तो उसके क्या परिणाम होंगे ?
- घ. उपर्युक्त गद्यांश का उचित शीर्षक लिखिए।
- ङ. विलोम लिखिए - सफलता, विश्वास।

II. दिए गए चित्र का वर्णन [25-30] शब्दों में कीजिए —



---

---

---

---

---

---

---

---

---

---

வகுப்பு : ஐந்து

மாணவர் பெயர்: .....

பாடம் : தமிழ்

வகுப்பு & பிரிவு : .....

அ) கீழ்க்காணும் தொடர்களில் உள்ள சொற்பிழையை நீக்கி எழுதுக.

1) மீணவர்கள் கடளில் மீண் பிடிக்கச் செள்வர்.

2) குமரகுருபறர் நீதிநெரி விலக்கம் இயற்றினார்.

3) தூறியன் கிளக்குத் திசையிள் உதிக்கும்.

4) இடிஇடித்து மிண்ணள் வெட்டியது.

5) உணது பெயற் எண்ண?

ஆ) பின்வரும் எண்களை எழுத்தால் எழுதுக.

1) 80 - .....

2) 99 - .....

3) 41 - .....

4) 65 - .....

5) 57 - .....

இ) கீழ்க்காணும் தொடர்களில் உள்ள பிறமொழிச் சொற்களை நீக்கி எழுதுக.

1) என் வாட்ச் நின்று போய்விட்டது.

2) டெய்லி எக்ஸ்சைஸ் செய்வது உடம்புக்கு மிகவும் நல்லது.

3) நாளை ஸ்கூலுக்கு லீவு.

4) என் பள்ளியில் தினந்தோறும் மார்னிங் ப்ரேயர் நடக்கும்.

5) ::பேன் பாஸ்டா ஓடுது.

ஈ) 22.9.2018 - அன்று வெளிவரும் ஏதேனும் ஒரு தமிழ்ச் செய்தித்தாளை வாசிக்கவும். அதில் ககர வரிசை ( க,கா, கி ..... ) எழுத்துகள் இல்லாத பத்து சொற்களைத் தேர்ந்தெடுத்து எழுதி, அச்சொற்களுக்கு இணையான ஆங்கிலச் சொற்களையும் எழுதுக.

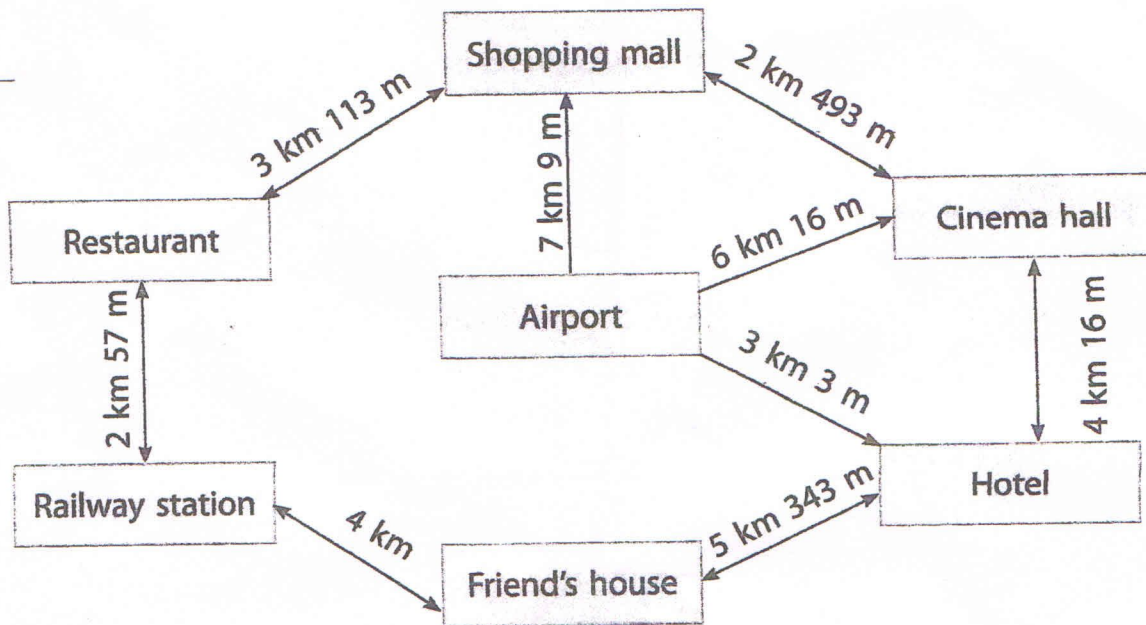
வ.எண்	தமிழ்ச்சொல்	ஆங்கிலச்சொல்
1		
2		
3		
4		
5		
6		
7		
8		
9		
10		

## I TERMINAL HOLIDAY ASSIGNMENT

CLASS : V

MATHEMATICS

1. Observe the given picture and answer the following questions.



Mrs Kumar comes to India. She lands at the airport and goes to the hotel. Calculate and write the answers for the following questions.

- Mrs Kumar plans to go for shopping. What is the shortest distance to the shopping mall from the hotel?
- What is the shortest distance from the shopping mall to Mrs Kumar's friend's house?
- Mrs Kumar and her friend plan to watch a movie. They wish to take the longer route as it is not crowded. What is the longest distance from Mrs Kumar's friend's house to the cinema hall?
- Mrs Kumar and her friend have lunch at the restaurant. Mrs Kumar has to board the plane. She is getting late. What is the shortest distance she can travel to reach the airport in time?

2. Complete the time table for the time you spend in various activities in a day.

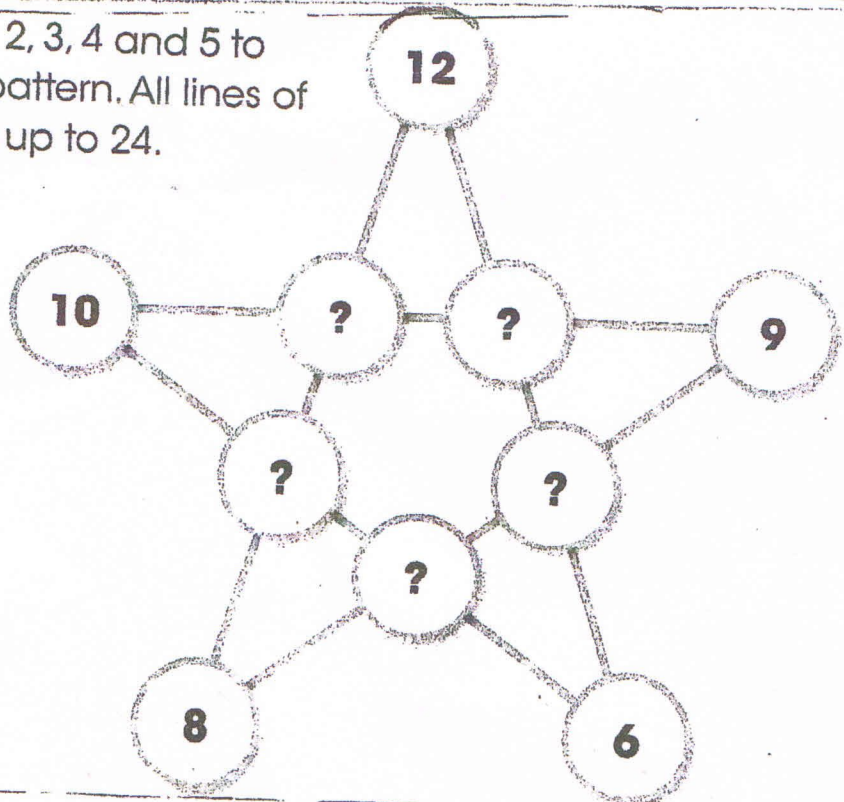
Activity	Hours	Fraction
At school		
Playing		
Self-study		
Sleeping		
Others		

Now answer the following questions.

- What fraction of the day do you spend in school and playing?
- What fraction of the day do you spend in other activities?
- What fraction of the day do you spend in self-study?
- Write the fraction for the activity in which you spend more time – sleeping or playing.

[Hint: 1 day = 24 hours]

3. Use the numbers 1, 2, 3, 4 and 5 to complete this star pattern. All lines of numbers must add up to 24.



4. Identify any 5 things in real life, stick those pictures in a neat A4 sheet and then draw the line of symmetry. Example - Butterfly.